



TEST PENTRU CLASA AVA 2019-2020


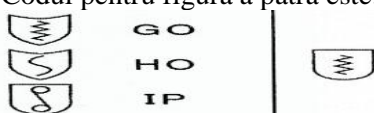
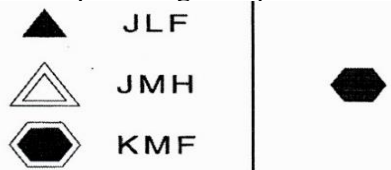
Citește cu atenție fragmentul de mai jos, extras din textul „Un pumn de răbdare”, semnat de Octav Pancu-Iași, apoi rezolvă fiecare dintre cele trei cerințe:

„Odată a venit la mine un băiețel și m-a întrebat:

– Spune-mi, te rog, cât trebuie să mai aștept ca să ajung mare? M-am săturat să tot fiu mic!

Să știi că n-ați ghicit dacă vă închipuiți că, în loc să-i răspund, pisălog cum sunt, m-am apucat să întreb, la rândul-mi, de ce s-a săturat. Știam și fără să-mi spună el. Și eu am fost copil, pe cuvânt că am fost, și cunosc destul de bine câte necazuri ai și numai din cauza tablei înmulțirii.

Asta fără să mai socotim problemele cu nuci și cu mere, subiectele care se prefac a fi predicate și predicatele care se deghizează în subiecte, numai și numai ca să te încurce.”

Subiect I 4 puncte	Scrie o scrisoare de minimum trei paragrafe (20 – 25 de rânduri) adresată unui copil pe nume Ioan / Ioana, împărtășindu-i opinia ta despre provocările și bucuriile pe care le trăiesc astăzi copiii. Convinge-l să nu se grăbească să crească mare!
Subiect II 4 puncte	Câteodată, subiectele (...) se prefac a fi predicate și predicatele (...) se deghizează în subiecte. Ca să arăți că pe tine nu te pot păcăli, alcătuieste câte două enunțuri în care cuvintele <i>poartă</i> și <i>cer</i> să fie, pe rând, subiect, respectiv predicat. Precizează ce parte de vorbire sunt cuvintele indicate în fiecare dintre cele două enunțuri.
Subiect III 4 puncte	Finalul textului lui Octav Pancu-Iași a fost copiat greșit de un băiețel grăbit. Rescrie textul, corectând toate greșelile: <i>Mare șmecher m-ai sunt copiii! Nam pereche de șmecher ces Eu știam că fetița no să vină dar nu iam spus. Spun numai ce-mi place mie. Nu vă supără cred.</i>
Subiect IV 4 puncte (la alegere)	1. In no more than 4 short sentences, describe your (best) friend. 2. Which is your favourite school subject? Why? Write no more than 2 short sentences. 1. Beschreibe deinen besten Freund. Schreibe vier kurze Sätze über ihn! 2. Welches ist dein Lieblingsfach in der Schule? Warum? Schreibe deine Meinung in wenigen Sätzen!
Subiect V 4 puncte	Să se determine toate numerele de trei cifre \overline{abc} , știind că suma primelor două cifre este 3, adică $a + b = 3$, iar suma ultimelor două cifre este 5, adică $b + c = 5$. Câte numere de trei cifre \overline{abc} satisfac doar condiția $a + b = 3$? Justificare.
Subiect VI 4 puncte	Să se demonstreze faptul că numărul 2019 se poate scrie ca sumă a trei numere naturale consecutive. Să se decidă dacă 2020 se poate scrie ca sumă a trei numere naturale consecutive. Argumentare.
Subiect VII 4 puncte	Să se calculeze $(1 + 2 + 3 + 4 + 5 + 6 + 7 + 8 + 9) : 45$. Să se afle numărul natural a , știind că $(a + 2 \times a + 3 \times a + 4 \times a + 5 \times a + 6 \times a + 7 \times a + 8 \times a + 9 \times a) : 45 = 1$.
Subiect VIII 4 puncte	Să se afle restul împărțirii numărului 209 la 19. Dacă se împart primele 2019 numere naturale nenule la 19, se obțin și 2019 resturi. Să se calculeze suma celor 2019 resturi.
Subiect IX 4 puncte	Completează fiecare serie. Explică cum ai făcut. 1. tom TON, dop, DOR, poc, POD, cor ____ 2. zdub, UD, smoc, OM, mers, RE, vals ____ 3. sac, sec, ger, gir, dig, dog, rog, ____ 4. bob bob bord drob 537 ____
Subiect X 4 puncte	1. NU face parte din serie figura: a. prima, b. a doua, c. a treia, d. a patra, e. a cincea  2. Codul pentru figura a patra este:  a. HP, b. IO, c. GO, d. HO, e. GP, 3. Codul pentru figura a patra este:  a. KLF, b. JLM, c. JMH, d. KMH, e. KLH, 4. Completează seria: 2019, ..., 2215, 2313, ..., 2509